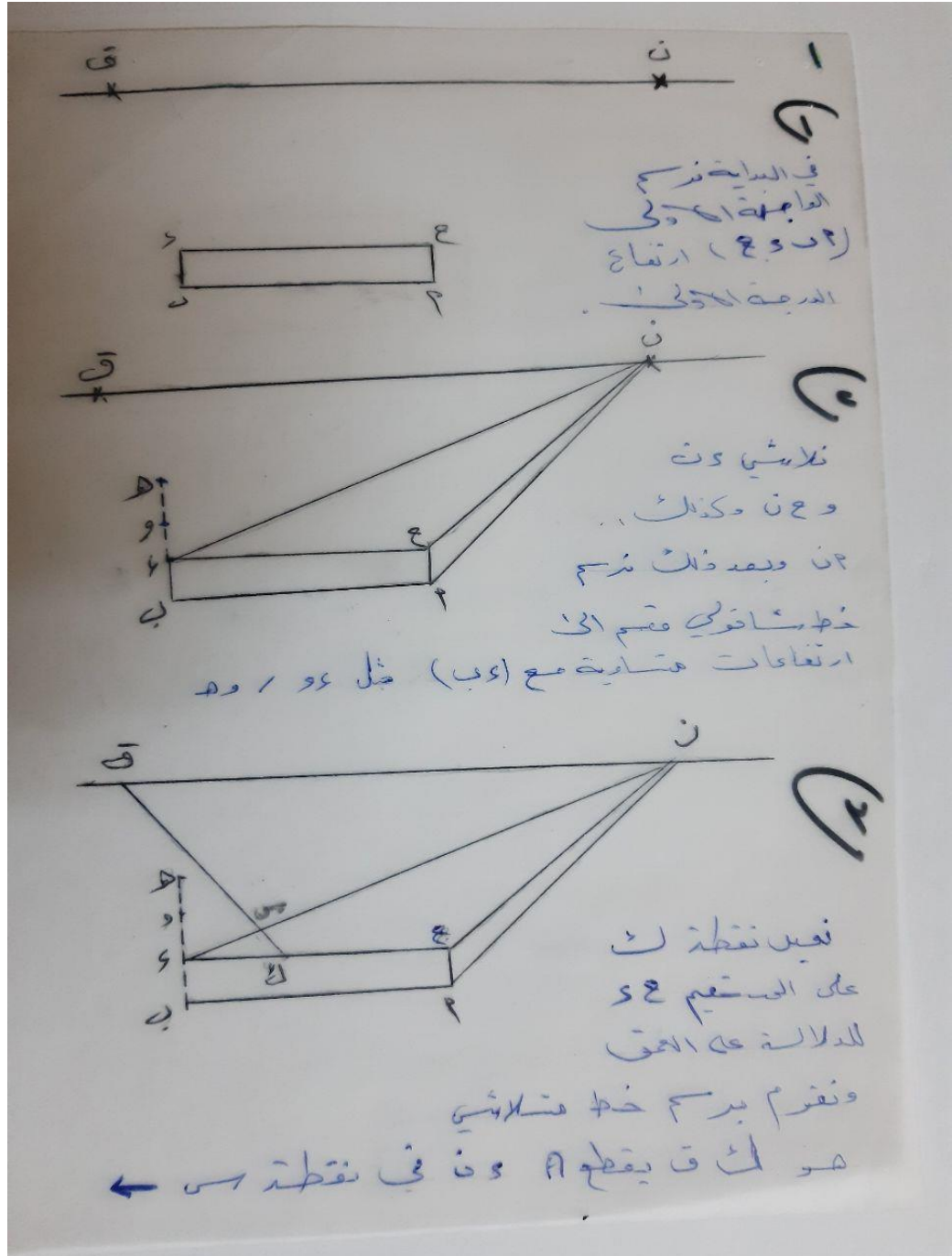
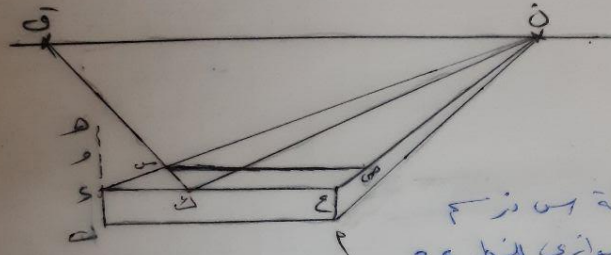


علم المنظور

سلام منظورة

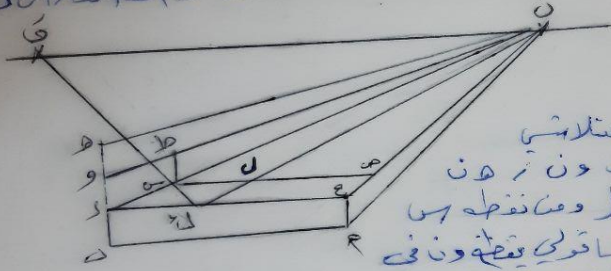
أم زينا سالم





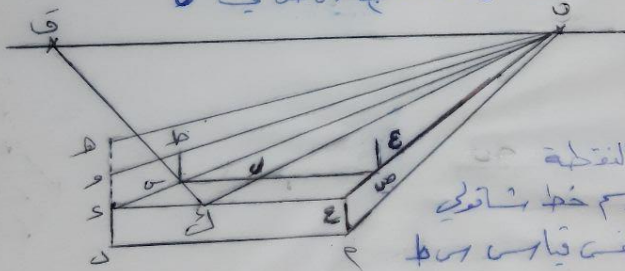
٤

من النقطة هـ نرسم  
خطاً موازياً للخط و ح  
ويقطع ا ح ن في هـ ومن النقطة ك نرسم خطاً موازياً لـ ن  
ن



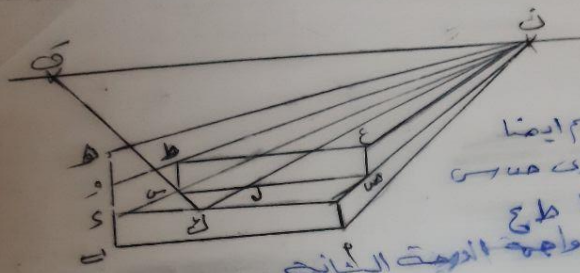
٥

نقوم بتلاشي  
السطحات ونرسم  
في نقطة النظر ومن نقطة هـ  
نرسم خطاً موازياً لـ ن ونحسب  
ط - والخط المتلاشي لـ ن قطع هـ ط في ل

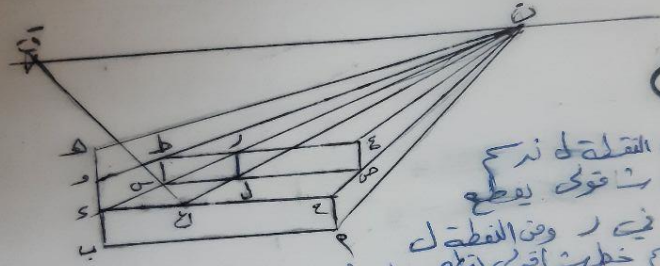


٦

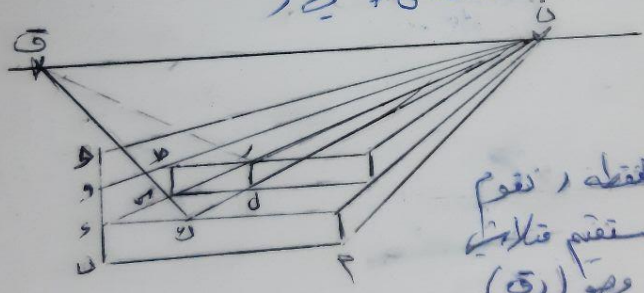
من النقطة هـ  
نرسم خطاً موازياً لـ ن  
يكون نفس قياس هـ ط  
مواز له فيكون لـ ن  
الستقيم ع هـ



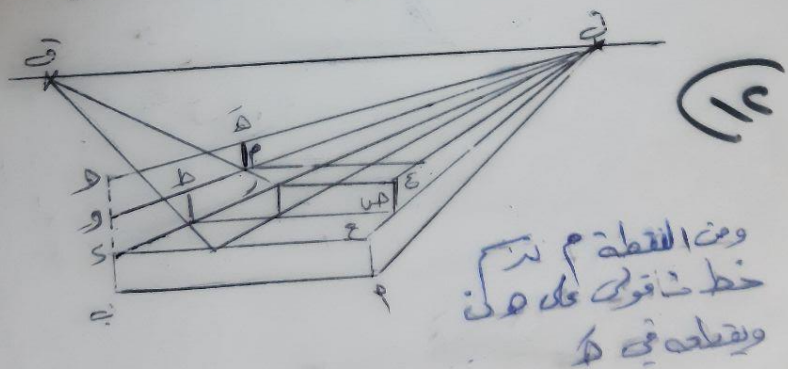
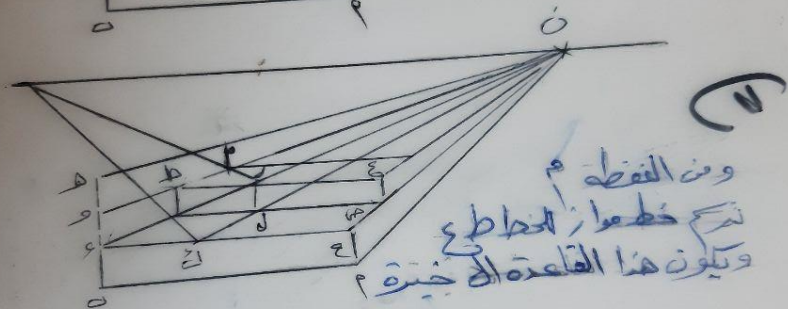
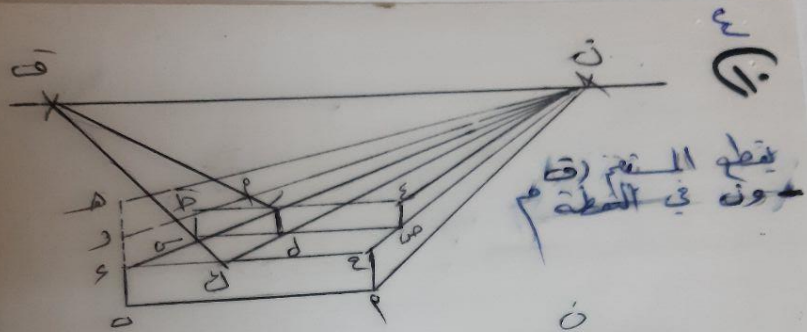
١  
مستقيم بسم ايضاً  
مستقيم يوازي هـ و س  
فينكون لدينا ط ج  
نعمل على واجهة الدائرة الثانية



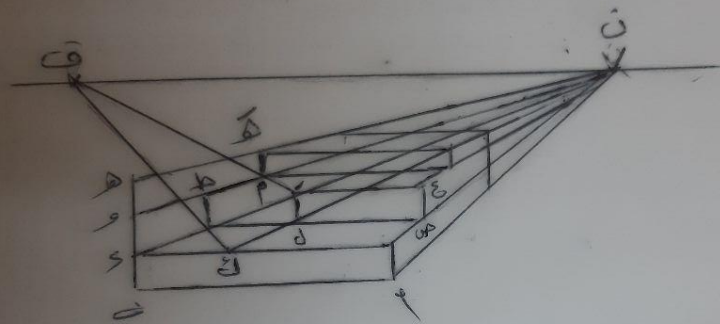
٢  
ومن النقطة د نرسم  
خطاً فوقه يقطع  
ع ط في ر ومن النقطة ل  
نرسم خطاً فوقه يقطع ع ط في ر



٣  
ومن النقطة ر نقوم  
بسم مستقيم متوازياً  
في ق وهو (ق)



١٤٠



ومن النقطة هـ نرسم خط مواز للمستقيم  
 م م فكرة الخط العلوي للدرج  
 الثالث أما م م فيقتب الخط  
 السفلي للدرج أي قاعدة الدرج